



石景山区 2018 年高三统一测试

文科综合

学校_____ 姓名_____ 准考证号_____

- | | |
|------|--|
| 考生须知 | <p>1. 本试卷共 18 页, 共两大部分, 41 道小题, 满分 300 分。考试时间 150 分钟。</p> <p>2. 试题答案一律填涂或书写在答题卡上, 选择题用 2B 铅笔作答, 其他试题用黑色字迹签字笔作答, 在试卷上作答无效。</p> <p>3. 考试结束, 请将本试卷和答题卡一并交回。</p> |
|------|--|

第一部分 (选择题 共 140 分)

本部分共35小题, 每小题4分, 共140分。在每小题列出的四个选项中, 选出最符合题目要求的一项。

“田家少闲月, 五月人倍忙。夜来南风起, 田覆陇黄。妇姑荷箬食, 童稚携壶浆, 相随饷田去, 丁壮在南冈”。节选白居易任周至县县尉(今西安市西)时所写的一首诗。据此回答第 1-2 题。

- 依据诗文, 下列说法正确的是
 - 该地为我国红壤主要分布区
 - 正值小暑至大暑期间, 盛行南风
 - “田”为该地粮食作物冬小麦
 - 该月昼短夜长, 每日劳作时间渐长
- 当地农田多分布在“南冈”, 主要原因是
 - 南冈气温低, 蒸发弱, 利于作物生长
 - 南冈位于亚热带, 作物受冻害威胁小
 - 南冈为背风坡, 焚风效应利于作物越冬
 - 南冈为向阳坡, 光热充足, 利于作物生长

图 1 为某种地理现象在全球的分布示意图。读图, 回答第 3-4 题。

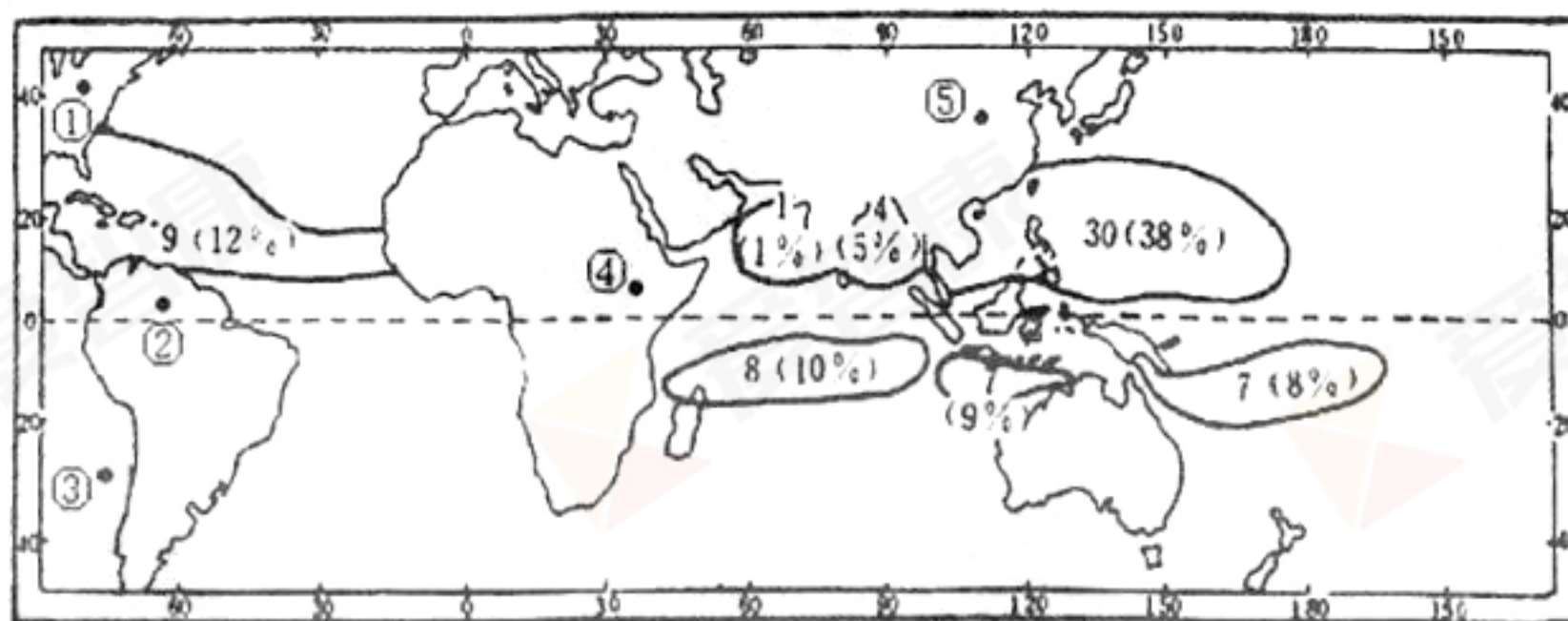


图 1 注: 30 (38%) 表示年均次数为 30, 年均概率为 38%



3. 该地理现象是

- A. 海啸 B. 温带气旋 C. 台风或飓风 D. 石油泄漏

4. 据图可知

- A. ④地位于两大板块消亡边界 B. ⑤地比②地的昼长变化幅度大
C. ③地因寒暖流交汇形成渔场 D. ③地比①地的正午太阳高度大

图2为“2017年4月7日某时东亚局部区域等压线分布图”。该日M地出现“落黄沙”天气，沙尘来自远处的地表扬沙，通过高层气流输送到M地上空飘落而形成。读图，回答第5-6题。

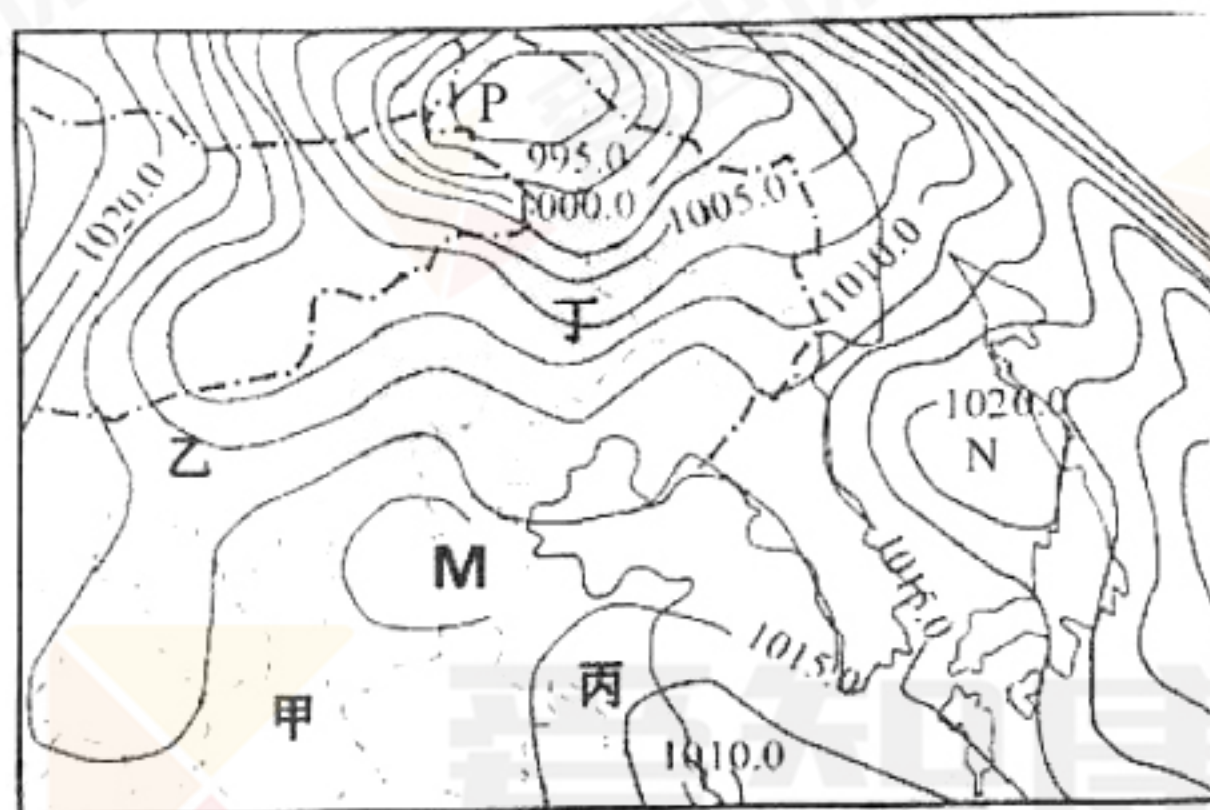


图2

5. 该日M地沙尘最可能来自

- A. 黄土覆盖的甲地 B. 植被稀少的乙地
C. 气候干旱的丙地 D. 狂风肆虐的丁地

6. 形成M地“落黄沙”天气的原因是

- A. 上升气流将M地的沙尘扬起 B. M地受高压控制盛行下沉气流
C. P处的大风将沙尘吹向M地 D. 沙尘来源与N处的高压槽有关

图3为贵州省石山区威宁县石坎梯高标准基本农田图。当地政府扶持贫困农民综合治理“山、水、林、田、路”，将山区坡耕地建设为石坎梯高标准农田（石坎梯田就是用石头砌田埂进行农田改造），成为精准扶贫的成功案例。读图文资料，回答第7-8题。



图3



7. 建设石坎梯田的区域背景叙述正确的是

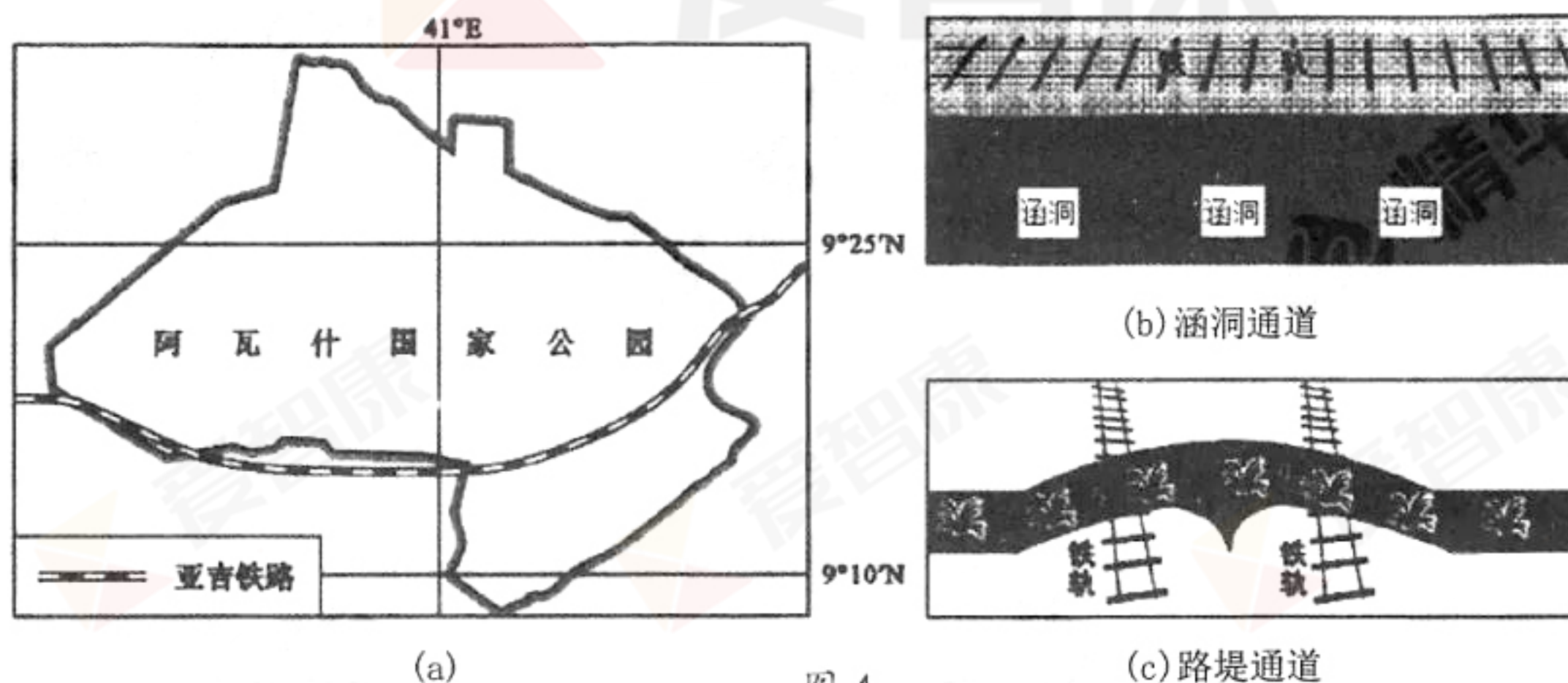
- ①土层薄，石漠化严重
- ②岩溶地貌为主，多大理岩石料
- ③地表崎岖，降水丰富，易出现山洪
- ④河流水位变化大，有春、夏两个汛期
- ⑤常绿硬叶林植被稀疏，涵养水源差
- ⑥交通等基础设施较落后

- A. ①③⑥ B. ②③⑤ C. ②④⑥ D. ①④⑤

8. 关于建设石坎梯田意义叙述错误的是

- A. 有效拦截雨水，增加地下径流，缓解旱情
- B. 石坎梯田就地取材，综合治理“山水林田路”
- C. 石坎梯田扩大了耕地面积，提高了人口容量
- D. 有效滞缓径流，减弱流水侵蚀，减轻水土流失

阿瓦什国家公园(图 4a)野生动物种类繁多。每年旱季开始，园内食草动物逐水草而居，食肉动物随之迁徙。中国建造的亚吉铁路穿越该国家公园，为了保护野生动物的安全，在铁路沿线设置了供动物通行的涵洞通道(图 4b)和路堤通道(图 4c)。读图 4，回答第 9 题。



9. 关于该地野生动物迁徙说法正确的是

- A. 4 月旱季野生动物开始向北迁入热带雨林区
- B. 10 月是野生动物向南穿越通道最频繁的月份
- C. 路堤通道上的植被多为温带草原和温带灌丛
- D. 涵洞通道比路堤通道更利于大型食肉动物通过



图 5 为某城镇规划图。读图，回答第 10-11 题。

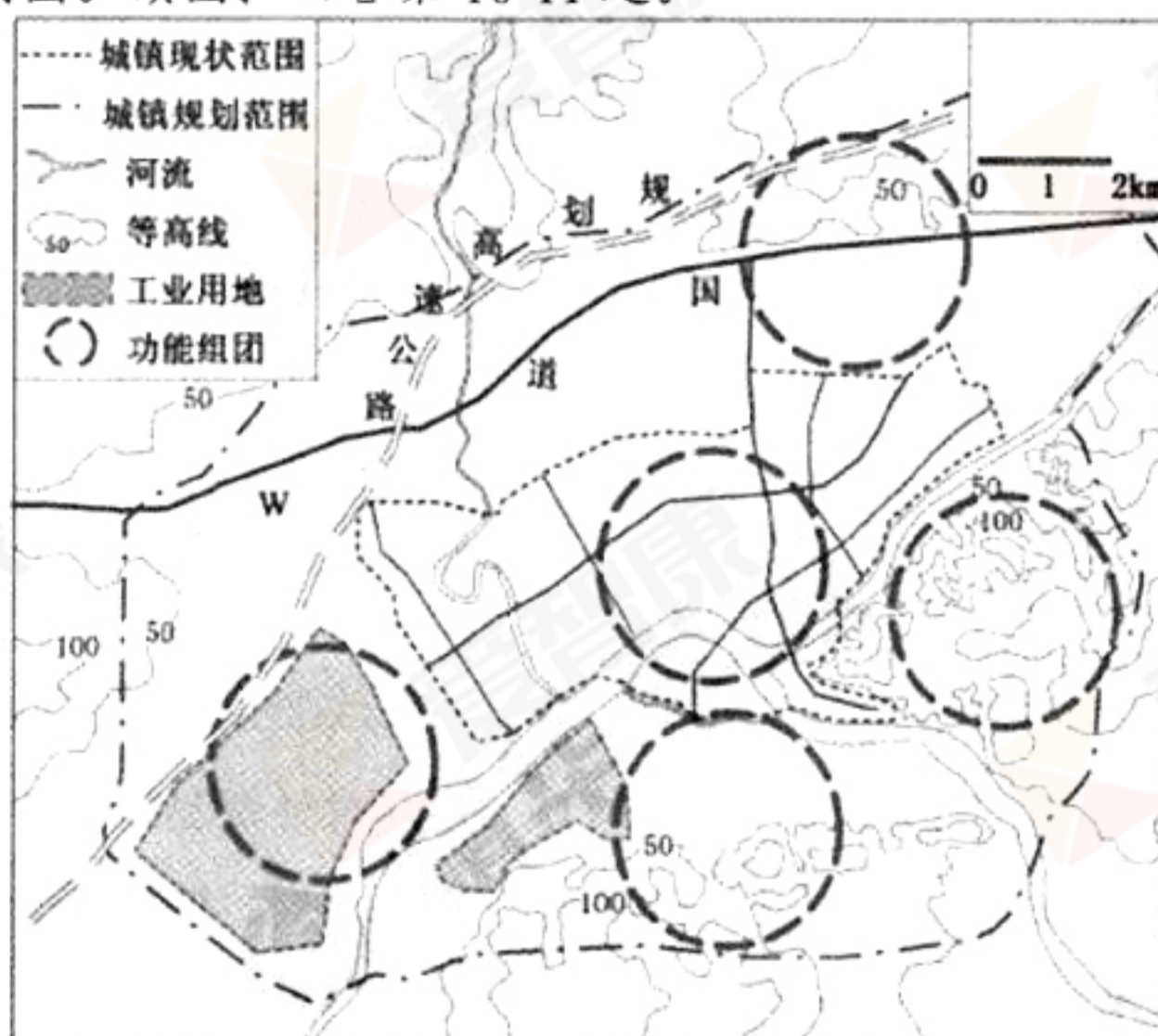


图 5

10. 该城镇规划的空间形态由集中式向组团式发展，可以
- A. 控制市中心人口，限制该城市的服务范围
 - B. 提高城市化水平，促进城市的工业化发展
 - C. 直接促进该地区同类产业活动的技术创新
 - D. 显著促进该地区同类产业活动的空间集聚
11. 若该城市布局合理，据图可知
- A. 盛行东北风
 - B. 河流自西向东流
 - C. W 为住宅区
 - D. 功能组团占地约 3km^2

12. 读右图，以下符合此时期时代特征的是

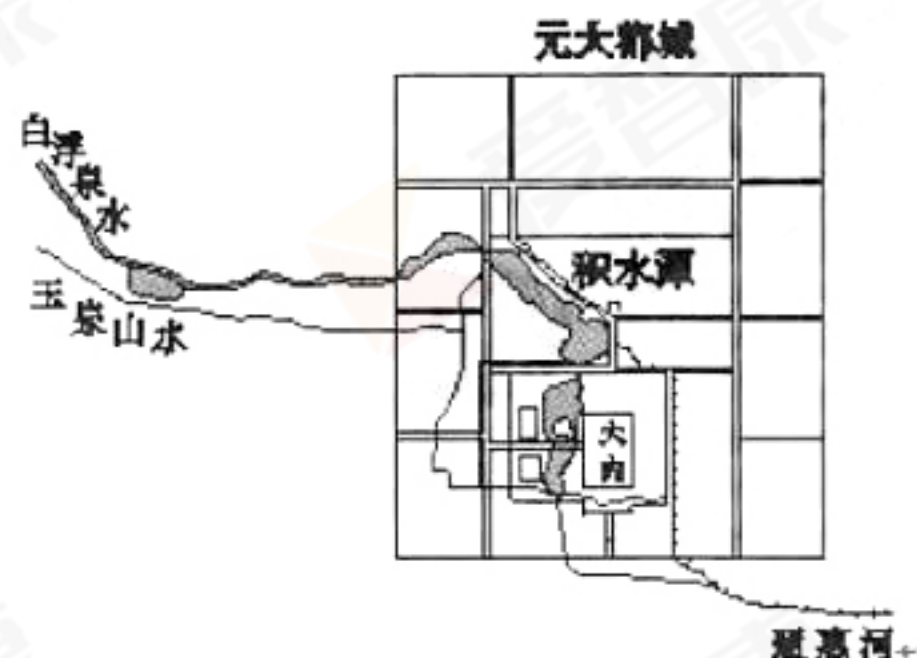
- A. 生产关系开始调整
- B. 土地私有正式确立
- C. 官僚政治已经形成
- D. 郡县制在全国实行



13. 五代十国时期，吴越国国王钱缪作《钱氏家训》，提出“能文章则称述多，蓄道德则福报厚”、“信交朋友，惠普乡邻”、“利在一身勿谋也，利在天下者必谋之”的治家思想。以下关于《钱氏家训》说法正确的是
- ①受到程朱理学的深远影响
 - ②体现重义轻利的价值取向
 - ③注重良好家风家训的传承
 - ④蕴含修齐治平的道德理想
- A. ①②③ B. ②③④ C. ①②④ D. ①②③④



14. 《析津志》所载，元大都城内外商业行市即达 30 余种。其中，米市、面市、缎子市、皮帽市、穷汉市、鹅鸭市、珠子市、沙刺市（即珍宝市）、柴炭市、铁器市，皆在今北京积水潭北的钟、鼓楼一带，这是因为南方来的漕运船只皆停泊在积水潭上的缘故。这一商业布局体现出



- A. 南北方物资交流频繁
B. 政府改变重农抑商政策
C. 北京水资源非常丰富
D. 元朝对外贸易十分广泛
15. 日前在首博举办的《天路文华——西藏历史文化展》展示了西藏的历史与文化，反映了西藏与周边地区及内地的文化交往。下列有关对西藏的认识中，不正确的是
- A. 唐朝阎立本的《步辇图》体现了唐蕃和亲政策
B. 元朝设立了宣慰司机构，对西藏地区直接管辖
C. 中央政府对达赖和班禅的册封制度开始于清朝
D. 西藏在新中国五大少数民族自治区中成立最晚
16. “风云两甲子，弦歌三世纪”。120 年前，清朝光绪皇帝下达《明定国是诏》曰：“数年以来，中外臣工讲求时务，多主变法自强。”以下对其意义认识正确的是
- A. 挽救了清末统治危机
B. 触动了封建制度的根本
C. 废除了腐朽科举制度
D. 加快中国近代化的进程
17. 史学界认为，它“开创了我国外交活动的新天地”，中国以大国身份开始步入世界外交舞台，发挥了应有的政治影响力。这件事指的是
- A. 第一次提出和平共处五项原则
B. 参加日内瓦会议以解决印度支那和平问题
C. 万隆会议上提出求同存异方针
D. 恢复中华人民共和国在联合国的合法席位
18. 在探索社会主义道路的尝试中，苏俄的战时共产主义政策与我国的人民公社化运动都曾遭遇了重大挫折，其根本原因在于
- A. 强调“以阶级斗争为纲”
B. 急于提前进入共产主义
C. 面临严峻的国内外形势
D. 超越了生产力发展水平





19. 2017年,“高铁、支付宝、共享单车和网购”被来自“一带一路”沿线20国青年评选为中国的“新四大发明”。中国“新四大发明”的出现说明
- ①不合理的国际经济秩序被改变 ②中国在世界经济舞台上扮演领导者的角色
③适应了经济全球化发展的需要 ④我国社会主义市场经济体制日益走向成熟
- A. ①② B. ②③ C. ③④ D. ②④
20. 重划选举区,建立十个地区部落;新设五百人会议,代替过去的四百人会议;创立所谓“贝壳流放制”,这些改革内容在雅典历史上具有重大意义,主要体现在
- A. 使雅典成为希腊文化中人文主义的滥觞
B. 为新兴工商业奴隶主夺取政权奠定基础
C. 使雅典的奴隶制民主政治正式确立起来
D. 兼顾了各阶级的利益,缓和了社会矛盾
21. 英国资产阶级革命时代,新贵族与资产阶级结盟占据了国家政治生活的主导地位。此后,这个联盟日益瓦解,形成了新的强大的资本主义政治、经济联盟。新联盟占据国家政权领导地位主要是通过
- A. 克伦威尔颁布《航海条例》 B. 沃波尔实际成为内阁首相
C. 《权利法案》明确议会至上 D. 1832年议会进行选举改革
22. “冷战”时期,亚洲地区与“欧洲无战事”相比,不同性质和规模的战争时有发生。出现这一状况的主要因素不包括
- A. 殖民主义和霸权主义的侵略战争 B. 亚洲各民族独立运动的不断高涨
C. 恐怖主义对地区安全造成的威胁 D. 两极格局下大国利益之间的博弈
23. 恩格斯曾说:“和启蒙学者的华美语言比起来,由‘理性的胜利’建立起来的社会制度和政治制度竟是一幅令人极度失望的讽刺画。”由此,文学艺术上兴起的流派是
- A. 古典主义 B. 浪漫主义 C. 现实主义 D. 现代主义
24. 2018年春节,一首孤独了300年的小诗《苔》,被乡村支教老师梁俊和来自贵州山里的孩子们在央视文化节目《经典咏流传》中动情演绎。“白日不到处,青春恰自来。苔花如米小,也学牡丹开。”孩子们用纯净的歌声唱出了自己对青春、理想和生命价值的感悟。这首只有20个字、却写给绽放在天地之间的每一个平凡又尊贵的生命的小诗,感动了电视机前的亿万中国人。这启示我们文艺创作要
- ①坚持创造性转化、创新性发展,推动社会主义文艺繁荣发展
②深入社会生活参与志愿服务,让一切文艺创作源泉充分涌流
③立足于人民群众的生活实践,坚持以人民为中心的创作导向
④和诗以歌,将古人之思与今人之想融为一体,增强文化认同
- A. ①② B. ①③ C. ②④ D. ③④



25. 春节前夕英国首相特蕾莎·梅与丈夫访问上海豫园并学习剪纸。有英国媒体报道称：“很不幸，这对夫妻把‘福’字拿倒了，让周围的人都很尴尬。”殊不知在中国“倒”和“到”谐音，有时人们会选择将“福”字倒贴，以表达对幸福生活的向往和对美好未来的祝愿。这一事件表明

- ①文化具有多样性，不同国家的文化各具特色
- ②中华文化独具魅力，其国际影响力不断提升
- ③人们社会交往的方式，都带有各自的文化印记
- ④应加强交流，增进人们对不同文化的相互理解

A. ①② B. ①④ C. ②③ D. ③④

26. 作为英国首相，特蕾莎·梅可以行使的职权和发挥的作用是

- A. 维护国家主权，是国家统一和民族团结的象征
- B. 制定、修改和废除法律，是英国“权力的基础”
- C. 审议和通过财政法案，行使“管理国库的权力”
- D. 领导内阁，代表王室和民众执掌国家行政权力

27. 右侧漫画告诉我们，生活中之所以存在对同一事物“各有所见”的现象，是因为

- A. 看问题的角度不同，对问题的认识会不同
- B. 事物是复杂多面体，其性质根本无法确定
- C. 对同一个确定对象的认识，会有许多真理
- D. 价值判断是多样的，没有统一的衡量尺度



28. 美国社会心理学家费斯汀格有一个很出名的判断，被人们称为“费斯汀格法则”，即：生活中的10%是由发生在你身上的事情组成，而另外的90%则是由你对所发生的事情如何反应所决定。换言之，生活中有10%的事情是我们无法掌控的，而另外的90%却是我们能掌控的。这从哲学角度启示我们

- ①要相信精神的力量可以决定事情的成败
- ②个人处理事情的方法是矛盾的主要方面
- ③积极的态度会促成矛盾双方的良性转化
- ④要善于分析和把握事物发展的各种条件

A. ①② B. ①④ C. ②③ D. ③④



29. 运动是有助健康的生活方式，然而运动方式是因人而异的。科学研究表明：体质上升期（0-28岁），要促进体育锻炼，参加乒乓球、马拉松等活动；体质下降期（28-49岁），不要再参加竞技运动，要进行体质锻炼，比如练练哑铃、跑跑步等；老年体质衰退期（49岁后），则要进行功能锻炼，比如快速步行、游泳等。与上述观点蕴含哲学思想一致的现象是

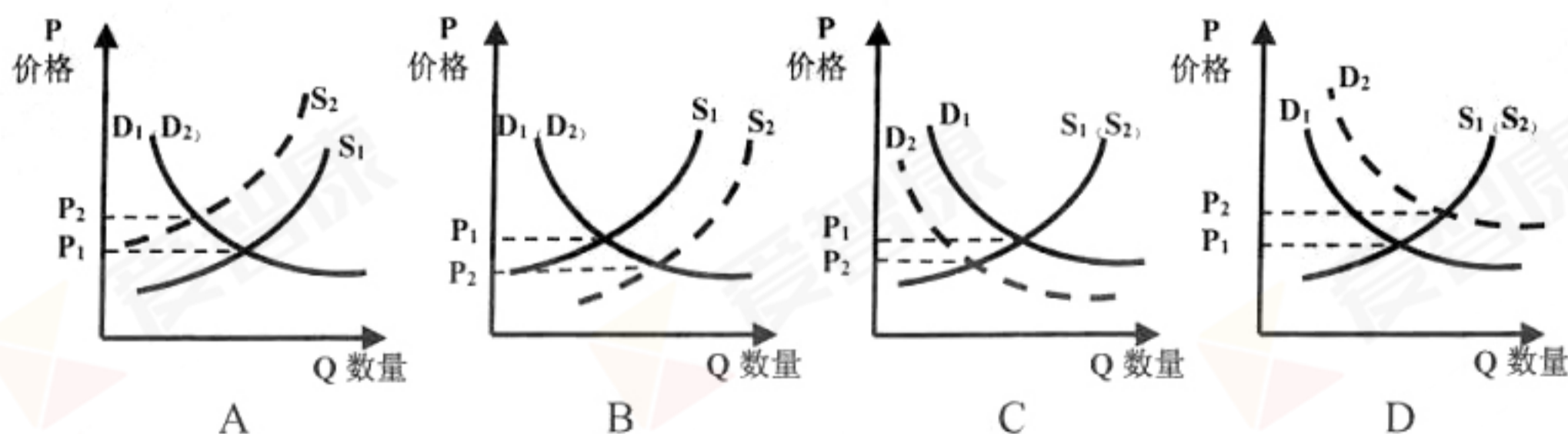
- A. 美国睡眠专家将人类生物钟细化为四种类型：浅眠状态的海豚型、早起晚睡的狮子型、靠午睡提高效率的熊型和昼伏夜出的狼型
- B. 随着社会生产力水平的提高，我国当前社会主要矛盾已经转化为人民日益增长的美好生活需要和不平衡不充分的发展之间的矛盾
- C. 一项项文化惠民工程、一个个文明创建活动……改善了我国人民的文化生活环境
- D. 外在的体貌特征终将走向衰老，保持年轻态的“冻龄”现象必然添加了外力作用

30. 据初步统计，截至2017年底，农村网店达到985.6万家，较2016年增加169.3万家，同比增长20.7%。2017年全国农村实现网络零售额12448.8亿元人民币，同比增长39.1%。我国农村网店以及网络零售额高速增长的主要原因是

- ①政府推进电子商务进农村政策，加强电子商务对农村经济的带动作用
- ②城市电商市场已日趋饱和，而农村电子商务有着巨大人口和市场潜力
- ③电子商务引导农业生产，推动了农产品的生产和加工方式的转型升级
- ④电子商务已成为农村经济发展的新亮点，改善了农村居民的消费结构

- A. ①② B. ①③ C. ②④ D. ③④

31. 2017年冬天，一场大范围的流感肆虐全球，流感引发的咳嗽久治不愈，让很多美国人苦不堪言。就在这个时候，我国的常见药川贝枇杷膏展现了其神奇的功效，占据了纽约的广告圈，身价大增到每瓶30美元（约合人民币190元）。若用S、D分别表示供给和需求曲线，下列图示正确反映川贝枇杷膏价格变化的是





32. 我国财政部宣布,自2017年12月1日开始,降低日化用品、食品等部分消费品的进口关税,平均税率由17.3%降至7.7%。这有利于

- ①丰富国内消费选择,引导国内供给体系转型升级
- ②进一步推进自由贸易,对国外企业则意味着商机
- ③发挥财政作用,保持社会总供给与总需求的平衡
- ④规范海外代购行为,构建公正、公平的市场体系

A. ①② B. ①③ C. ②④ D. ③④

党的十九届二中全会审议通过了《中共中央关于修改宪法部分内容的建议》,其后将依照法定程序由全国人大常委会提出宪法修正案议案,提请第十三届全国人大第一次会议审议通过。据此回答33-34题。

33. 上述修宪过程说明

- ①作为国家根本法的宪法,适应了新形势、吸纳了新经验、确认了党的十九大最新成果,具有持久生命力
- ②宪法修改过程坚持了党的领导、人民当家作主、依法治国的有机统一,有助于进一步坚定宪法自信
- ③党的领导和社会主义法治是一致的,党要带头守法、保证执法,不断推进法制化、规范化
- ④通过全国人大常委会的议案及全国人大代表的审议过程,党的治国理念才能上升为国家意志

A. ①② B. ①③ C. ②④ D. ③④

34. 此次宪法修正案中专门增写监察委员会一节,确立监察委员会作为国家机构的法律地位。中华人民共和国各级监察委员会是国家的监察机关,对所有行使公权力的公职人员进行监督,代表党和国家行使监督权。国家监察委员会由全国人大产生、对全国人大及其常委会负责,并接受其监督。监察委员会的设立及定位体现出





- ①其职权凌驾于行政、司法机关之上 ②与全国人大是相互监督的关系
③我国权力的运行遵循着民主集中制 ④反腐工作走向规范化和制度化
- A. ①② B. ①③ C. ②④ D. ③④

35. 某国刚刚经历了两年的战乱之祸，面临着严重的通货膨胀和极度的物资匮乏，黑市交易异常猖獗，纸币贬值严重，人们更愿意以物易物。在此情况下，国家颁布了《货币兑换法》，废除了旧货币，规定居民可以按照一定比例兑换新货币，用以支付生活必需的开支。法律还规定严禁行政部门出现收支逆差，严格控制信贷规模。在一系列的调控措施下，经济形势明显好转。对该国采取的举措，下列评价正确的是

- ①市场自发调节作用大，国家对经济干预少
②通过发挥政府的作用，有效缓解社会矛盾
③反对自由放任，主张国家对经济进行干预
④政府主导特征明显，强调员工对企业尽忠
- A. ①② B. ①④ C. ②③ D. ②④



第二部分（非选择题 共 160 分）

36. (36 分) 读图 6, 回答下列问题。

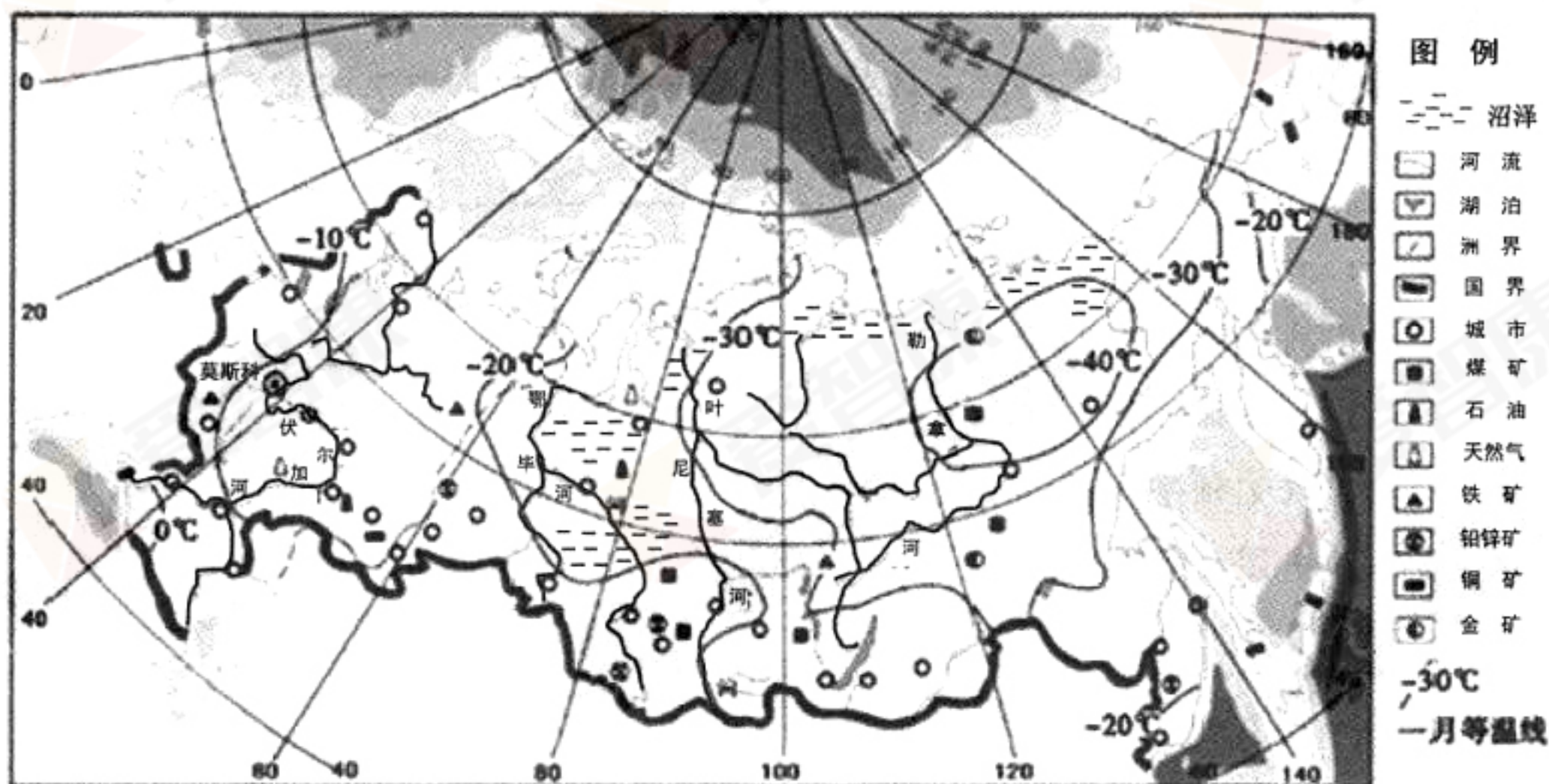


图 6

(1) 描述俄罗斯 1 月气温分布规律, 并从海陆位置角度简要分析其成因。(6 分)

材料一 图 7 为沿 55°N 俄罗斯某湖泊地质剖面图。

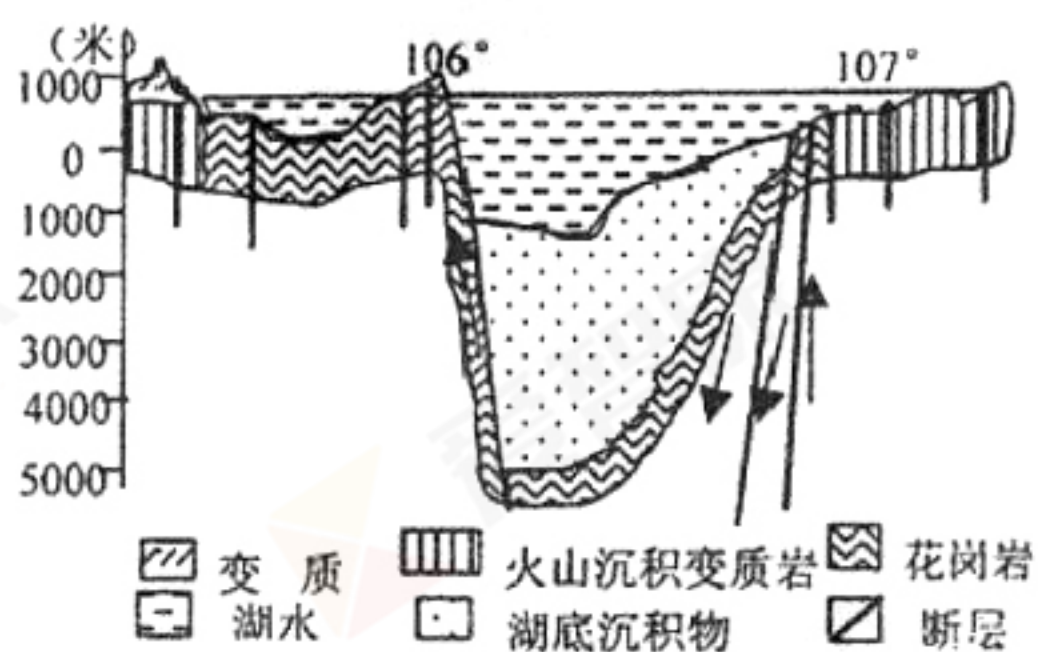


图 7

(2) 据图 6 和图 7 判断该湖湖水的性质, 并简述该湖形成的主要过程。(8 分)

(3) 据图 6 说出沼泽集中分布区, 并分析沼泽形成的原因。(8 分)



(4) 读图 6 说明莫斯科成为俄罗斯最大综合性工业中心的主要区位优势。(8 分)

材料二 2017 年 7 月，俄罗斯邀请中国合作共建“冰上丝绸之路”北极航道的东北航道。这条航道是连接东北亚与西欧最短的海上航线。图 8 为传统航道路线与东北航道示意图。



图 8

(5) 与传统航道相比，说出“冰上丝绸之路”东北航道的优势。(6 分)

37. (34 分) 民族·国家·历史·文化

材料一 秦始皇长城

《世界遗产名录》对长城的评价语为：“约公元前 220 年，一统天下的秦始皇，将修建于早些时候的一些断续的防御工事连接成一个完整的防御系统，用以抵抗来自北方的侵略……它在文化艺术上的价值，足以与其在历史和战略上的重要性相媲美。”秦长城以石筑见称，雄伟壮观，是世界建筑史上的奇迹，如今虽然历史的风雨将它剥蚀成了断垣残基，但它却浓缩成了一种厚实的文化积淀，以永恒的苍凉和悲壮，永远留在华夏文明的史册里。

秦长城示意图





(1) 依据材料并结合所学知识,请你从历史和现实两个方面扼要说说对秦长城的看法。(12分)

材料二 《东亚时局形势图》

《东亚时局形势图》也称《时局图》,是中国近代时事漫画的杰作。右图作者用犬、熊、蛙、太阳、鹰分别代表英、俄、法、日、美帝国主义国家。还有代表清政府的四个人物:一个手举铜钱;一个正寻欢作乐;一个昏昏似睡者,手中拉着网绳,网中一人正念着“之乎者也”;还有一个人人在马旁练武……据传作者还在在漫画旁边写下了“沉沉酣睡我中华,哪知爱国即爱家!国民知醒宜今醒,莫待土分裂似瓜。”的诗句。



(2) 上图反映了近代中国社会怎样的政治时局?结合所学知识简要指出19世纪末到五四运动前为挽救民族危亡而进行艰苦努力的主要代表人物及其救国方案和行动。(13分)

材料三 文化是经济和政治的反映

欧洲文艺复兴的策源地在意大利,宗教改革的故乡在德国,启蒙运动的中心在法国,决非偶然,它们显然是由各自深刻而特定的社会历史条件所决定的。

——董小燕《西方文明:精神与制度的变迁》

(3) 结合所学知识概括说明材料三中“各自深刻而特定的”社会历史条件分别是什么。(9分)



38. (28分) 中国特色社会主义进入了新时代,这是党的十九大作出的一个重大政治判断。新时代开启新征程,新时代呼唤新作为。

材料一 在中国迈入新时代、开启新征程之际,2017年12月1日至3日,中国共产党与世界政党高层对话会在北京举行。这场当今世界最大规模的政党大会,吸引着全球关注的目光,留下了五大收获。

※收获一:大会吸引了世界上120多个国家近300个政党和政治组织的领导人参加,体现了中国共产党和中国的强大实力和号召力。

※收获二:大会让外国政党领导人与中方在经济建设、反腐倡廉等方面进行了深入交流,为外国政党领导人提供了近距离读懂中国共产党、读懂中国的机会。

※收获三:中国共产党提出的“将中国共产党与世界政党高层对话会机制化”,不同国家的政党应该“探索在新型国际关系的基础上建立求同存异、相互尊重、互学互鉴的新型政党关系”等倡议,得到外国政党领导人的积极响应。

※收获四:“人类命运共同体”“一带一路”等中国理念、中国方案,赢得与会代表广泛认同,凝聚起更多共识。各国政党代表对于共建“一带一路”,表现出极大的热情。

※收获五:与会领导人一致通过《北京倡议》,强调政党要做伙伴关系的推动者、世界和平的建设者、全球发展的促进者、文明互鉴的践行者和生态环境的守护者,政党间应增进互信、加强沟通、密切协作,汇聚构建人类命运共同体的强大力量。

(1)请结合以上收获,概括召开中国共产党与世界政党高层对话会的政治意义。(12分)

材料二 建设美丽中国,实现永续发展,是新时代的新使命。2017年,北京市空气质量优良天数226天,比上年增加28天。究其原因,一是气象条件整体有利,相对频繁的冷锋有助驱散污染物。二是政府加大环保治理力度,加强京津冀周边地区的对接协作,完善省内区域、城乡间的联防联控,在京津冀地区实行严格的治污措施,敦促水泥和钢铁等重工业工厂关停或减产;同时,深入推行汽车限行政策、不断完善城市交通体系,积极倡导绿色出行理念。空气质量的改善提高了人民生活的幸福指数。

(2)大气污染防治专家认为,北京空气质量的改善是“八分人努力、两分天帮忙”,这一判断体现了什么哲学道理?(6分)



材料三 面对新时代的中国和已经发生新变化的社会主要矛盾，中国小家电企业通过创造满足美好生活需要的新产品，找到自身的发展定位。近日，在全球电商巨头亚马逊网站上，中国贵州某企业制造的马桶盖遭到外国人“疯抢”，月销上万套！这种马桶盖受欢迎的原因是：由竹子或稻草秸秆制成，有超过 5000 种的个性图案设计，具有缓慢关上的功能和方便拆卸的优点，其吸附式子母设计用操作方便的磁铁吸附小圈技术取代了大小圈锁扣固定的传统方式，可供成人和儿童共同使用。此外，我国最新制定的团体标准 CBMF 15-2016 《智能坐便器》的某些项目标准超过日本，安全性、舒适性的指标已经处于世界领跑者地位；在阻燃性能、机械强度、防虹吸性能等方面的要求，更是我国首创！

(3) 结合材料三中的案例，谈谈中国小家电企业在寻找自身发展定位中作出了哪些努力？(10 分)

39. (16分) 春节是中国人一年当中最为隆重、热闹的传统节日。尽管大街上依旧张灯结彩、商店里依旧促销火热、火车票依旧一票难求、饭店年夜饭依旧排队等候、电视节目依旧精彩丰富……但近年来，大家却普遍感到“年味儿淡了”。

(1) 你理解的“年味儿”是什么？(2分)

伴随着社会发展与时代进步，过年的习俗发生了很大变化，惹来网友们的热议。

网友 A：过去过年家家户户贴春联，春联多为毛笔字好的人手写；现在的春联都是到街上买印刷好的，而且买大送小、买够一定金额还送福字儿……您问怎么这么便宜？贴的人少了呗。

网友 B：过去“剃头洗澡”是过年的必备仪式；如今各类美发店林立，小姑娘三周不到店消费，就会有美发主管打电话招呼你去做护理。

网友 C：过去过年最期待的就是能吃一顿自家做的硬菜、大餐！还有各种好吃的，什么大白兔、枣泥麻饼、花生瓜子……再有就是新衣裳，一人只能买一件，必须等到大年初一才能穿；如今年夜饭不必自己动手、全交给饭店了，购物车里堆满了新衣服，好吃的更是多得吃不下。

网友 D：过去年初一的凌晨五、六点就会被断断续续的鞭炮声和亲戚邻居家来拜年的小孩们毫不顾忌咚咚咚的敲门声吵醒；如今鞭炮不让放了，独生子女政策实施多年，孩子越来越少了，邻里间互相串门的也越来越少了。





(2) 看了网友们的热议,你认为如今人们感觉年味儿变淡的原因是什么?(6分)

2018年的春节,北京呈现出很多新气象:一家人通过网络拜年、抢红包、玩同一款游戏,既热闹又享受了亲情;图书大厦、新华书店挂上了吉祥的红灯笼、福字拉花、大红纸扇,为选择书香中过大年的人们增添了节日氛围;京味儿最浓、最有文化味儿的厂甸庙会,丰富了北京人的年节生活;民俗表演、非遗展示、诗歌春晚、猜灯谜写春联等文化活动,传统与现代交织,给市民带来丰富喜庆的节日体验。和家人团聚在一起,过一个温馨热闹的春节,年味儿似乎又回来了。

(3) 结合上述材料,从文化角度对怎样不让年味儿变淡进行思考,以“留住年味儿”为题拟定一份倡议书。(8分)

“留住年味儿”倡议书

春节是中国人一年当中最为隆重、热闹的传统节日。近年来,大家却普遍感到“年味儿淡了”。为了“留住年味儿”,特发出此倡议。

倡议一:

倡议二:

倡议三:

.....

40. (16分) 公共卫生与人民大众的健康休戚相关。

材料一 世界卫生组织(WHO)估计,每年有430万人死于室内空气污染。室内空气污染的有害物主要包括甲醛、苯、氨、放射性氡等。图9是某年长江流域部分城市室内空气中VOCs(挥发性有机物)超标状况的调查统计图。

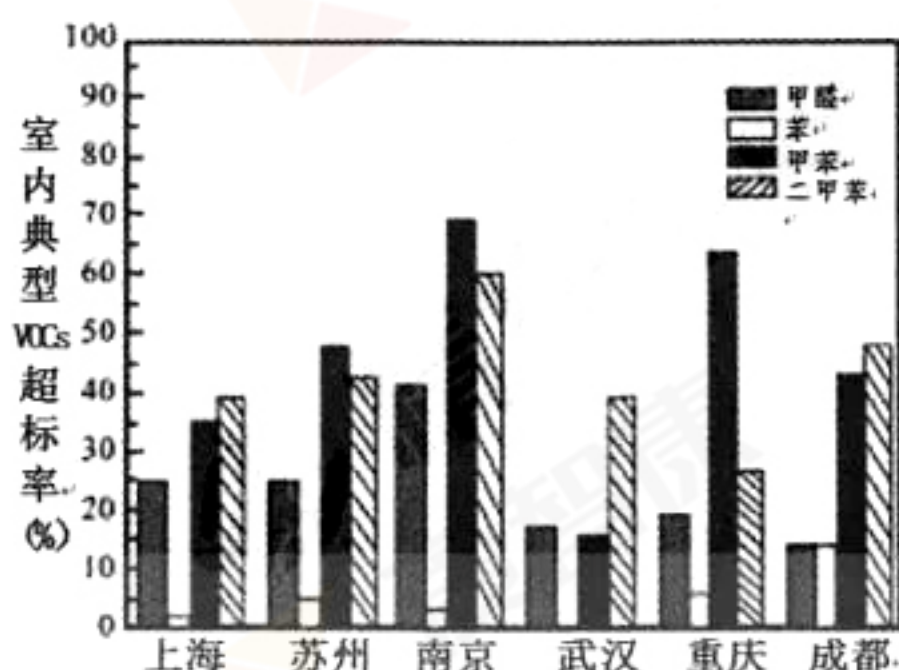


图9

(1) 简述上海和重庆室内空气中VOCs超标状况的差异,并结合自身生活提出几点防治室内空气污染的办法。(8分)



材料二 19 世纪后半期，美国社会经历着人口等生产要素向城市区域的高速聚集，城市环境承载能力迅速下降，各种生活、生产污染为病原体营造出绝佳的寄存场所。城镇居民仍然延续着殖民地时期形成的将垃圾直接倾倒在街道的习惯，垃圾收集和处理被看做居民的个人事务。由于当时环境治理尚未起步，工业废物排放给城市卫生带来的危害是不言而喻的。城市陷入各种传染性疾病的困扰中，严重威胁社会大众的生命安全。19 世纪后半期，公共卫生改革开始在美国各地城市中涌现。1870 年，美国最大城市纽约创立卫生局，成为其他城市效仿的典范。自 80 年代开始，许多城市先后建立街道清洁部，专门负责街道保洁工作。城市政府还首次吸引社会多元力量参与垃圾处理工作，私人企业、民间团体积极参加。19 世纪后半期疫病防治也取得了新进展，传统检疫中采取的“隔离”手段得到继承和强化，联邦政府直接干预“检疾”工作，国会陆续颁布《国家防疫法》、《检疾法案》等法律法规。

——摘编自李晶《城市化下的“卫生”困境与突破》

(2) 根据材料二并结合所学知识，分析 19 世纪后半期美国城市公共卫生改革兴起的背景，简要概括这一时期美国城市公共卫生改革的主要内容。(8 分)

41. (30 分) 改革开放是一项必须长期坚持的基本国策。

材料一 党的十一届三中全会后……广东又一次依托其特殊的……地缘优势，成为我国改革开放的先行地区，……广东人民没有辜负党中央和全国人民的期望，用 20 多年时间，为社会主义市场经济新体制的创立，为在东西对抗、西强我弱情况下我国的全面对外开放闯出了新路，提供了经验，推动了 20 世纪 90 年代后全国大开放格局和东西南北中区域经济群雄并起新格局的形成。

——梁桂全《广东区域经济发展的深层思考》

(1) 广东成为我国改革开放的先行地区，依托的特殊的“地缘优势”主要是什么？我国逐渐形成了怎样的“全国大开放格局”？(10 分)



材料二 港珠澳大桥 2010 年开始修建,2017 年底全线建成,通车后将实现 30 分钟交通圈。开车从香港到珠海的时间将由目前的 3 个多小时缩减为半个小时。

材料三 大桥位置图(图 10)和珠江三角洲地区部分城市 2016 年产业构成图(图 11)



图 10

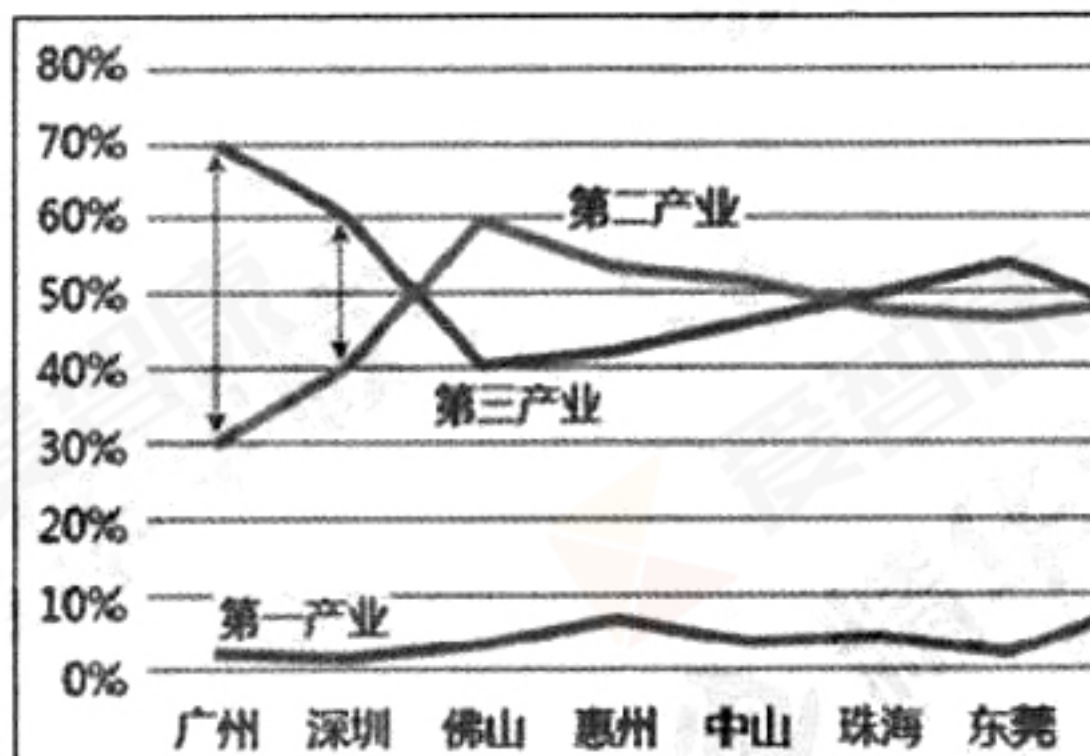


图 11

(2) 读图分析珠江三角洲地区产业结构的主要特点,并预测港珠澳大桥通车后,对珠海和中山产业结构变化的影响。(12 分)

材料四 在过去物质匮乏的年代,不断做物质加法——为家里添置冰箱、买回电视机、配齐洗衣机,再买辆车……从一无所有的状态到“全副武装”的过程,确实能给人幸福的感觉。但现在,物质空前丰富,在一个万物丰裕的新时代,幸福观正在悄然发生变化:从“厉行节约”到“主动选择简朴”,不把时间和金钱消耗在对物质的追求里;从“拥有金钱”到“拥有时间”,可以从容安排自己的生活;从“推销自己”到“自我精进”,在提高自我的同时为他人提供帮助……

据此,有人说“最幸福的感觉永远在路上”。

(3) 结合材料四,从哲学角度谈谈对“最幸福的感觉永远在路上”这一观点的理解。(8 分)



石景山区 2018 年高三统一测试

文科综合参考答案

第一部分 (选择题 共 140 分)

1. C 2. D 3. C 4. B 5. B 6. B 7. A 8. C 9. B 10. D 11. A
12. A 13. B 14. A 15. B 16. D 17. B 18. D 19. C 20. C 21. D 22. C 23. B
24. B 25. B 26. D 27. A 28. D 29. B 30. A 31. D 32. A 33. C 34. D 35. C

第二部分 (非选择题 共 160 分)

36. (36 分)

(1) (6 分) 分布规律: 大部分地区气温在 -10°C 到 -40°C 之间; 气温从大陆中东部地区向东西两侧递增 (或从东西两侧向大陆中东部地区递减)。 (4 分)

成因: 东西两侧距海较近, 受海洋影响大, 气温较高; (或中部地处内陆, 受海洋影响小, 气温较低)。 (2 分)

(2) (8 分) 性质: 外流湖或淡水湖 (2 分)

成因: 断层发育, 断裂下陷, 积水成湖。 (6 分)

(3) (8 分) 分布: 鄂毕河和叶尼塞河之间 (或者西西伯利亚平原); 北冰洋沿岸。 (2 分)

原因: 纬度高, 蒸发弱; 冻土发育, 水分不易下渗; 地势低平, 排水不畅; 河流有凌汛, 河水易泛滥。 (6 分)

(4) (8 分) 煤、铁等资源丰富; 便利的水陆交通; 国内外市场广阔; 悠久的工业发展历史; 有众多科研机关和高等学府, 科技力量雄厚。 (8 分)

(5) (6 分) 缩短航程; 节约时间; 节省油耗, 降低航运成本; 沿线国家比较少, 不稳定因素相对较少, 航行安全性更好。 (6 分)

37. (34 分)

(1) (12 分) 历史: 秦长城的修筑有效抵御了匈奴南下的掠夺, 有利于内地人民安定的生产和生活, 但也是秦始皇暴政的历史见证。 (6 分)

现实: 秦长城是中国古代劳动人民汗水和智慧的结晶, 是中华民族精神的象征, 还是世界文化的宝贵遗产。 (6 分) (每点 2 分, 言之有理即可得分)



(2) (13 分) 政治时局: 甲午中日战争后 (19 世纪末), 帝国主义掀起瓜分中国的狂潮, 清政府腐败无能且成为列强统治中国的工具, 民族危机达到空前严重的程度。(4 分)

救国方案及行动: 以康有为、梁启超等为代表的资产阶级维新派宣传维新变法思想, 主张实行君主立宪, 开展救亡图存运动;(3 分) 以孙中山等为代表的资产阶级革命派提出三民主义主张, 领导辛亥革命, 推翻清王朝统治, 结束了两千多年的封建君主专制制度, 建立资产阶级共和国;

(3 分) 以陈独秀、李大钊等为代表的中国先进知识分子掀起新文化运动, 冲击了封建思想的统治地位, 提倡民主与科学, 为马克思主义在中国的传播创造了有利条件。(3 分)

(3) (9 分) 意大利最早出现资本主义萌芽, 古典文化遗存丰厚;(3 分) 德意志处于四分五裂的状态, 罗马教廷的精神控制与经济掠夺;(3 分) 法国资本主义经济发展程度较高, 典型的君主专制激发了资产阶级的强烈反抗。(3 分)

38. (28 分)

(1) (12 分) ①对话会搭建了全球性政党高层对话平台, 有助于各国政党共商共议、平等交流, 相互借鉴治党理政经验, 共同提高执政或参政能力;

②在建立人类命运共同体的道路上集结了更多的伙伴和开拓者, 彰显了中国共产党人建设和平、繁荣、美好的世界家园的时代责任, 体现了中国共产党的强大号召力;

③对话会进一步提升了我国“平等互信、包容互鉴、合作共赢”外交主张的影响力, 为促进世界的繁荣发展做出了贡献。

(每点 4 分, 其它答案言之成理可酌情给分。)

(2) (6 分) ①北京地区的自然条件是客观存在的, 但每年的空气质量却有所不同, 表明人为因素是影响空气质量的主要因素, 专家的判断坚持了两点论和重点论的统一。

(3 分)

②北京空气质量的好转受气象条件等客观因素的影响, 更是市政府在尊重规律的基础上, 加强同周边地区的对接协作, 出台一系列政策措施加大环保治理的结果。专家的判断是对北京市政府在遵循客观规律的基础上, 充分发挥主观能动性的认可。(3 分)

(其它答案言之成理可酌情给分。)



(3) (10分) 小家电企业①顺应市场需求变化,注重产品的多元化设计、绿色环保安全和方便舒适性,满足不断升级的消费需要;(4分)

②注重依靠科技,提高自主创新能力,增强市场竞争力。(3分)

③通过标准化生产,促进产品质量提升和结构优化,树立良好的企业形象和信誉。(3分)

(其它答案言之成理可酌情给分。)

39. (16分)

(1) (2分) 得分标准:符合问题要求,表明自己观点即可得分。

参考事例:年味儿是全家团圆,年味儿是一种传统文化的仪式感,年味儿是充满了祝福话语的节日氛围,年味儿是不管认不认识见面都说“过年好”的友善态度。

(2) (6分) ①随着生产发展、消费水平的提高,人们的物质需求得到极大满足,与之相关的吃大餐、穿新衣等过年习俗不能再带给人们满足感;

②宣传力度不足,青年人对春节文化不够了解,导致贴春联等一些有益的传统过年习俗逐渐淡化,春节缺乏应有的仪式感;

③环保意识、低碳生活方式日益深入人心,国家政策对文化活动产生一定影响,有些诸如放鞭炮等传统庆祝形式不再适应当前的社会状况;

④社会居住条件得到改善、以小家庭为主的居住方式成为主流,亲戚邻里交流不足,导致过年缺乏气氛。

(任答3点,即可得6分。其他答案,言之成理亦可酌情给分。)

(3) (8分) ①适应社会发展,在守护与传承中,充实创新年俗文化,满足人们对年节更加美好的生活需求;

②丰富公益性文化活动,增强人们的年俗文化体验,让人们在活动中了解传统习俗,增强节日仪式感;

③有选择地恢复具有民族、区域特色的优秀传统年俗文化形式,增强人们对优秀传统年俗文化的认同;

④挖掘年俗文化的精神内核,坚守中国人对于“团圆、和睦、友善”的精神追求,增强文化自信。

(任答3点,即可得8分。其他答案言之成理亦可酌情给分。)



40. (16 分)

(1) (8 分) 差异: 上海甲醛和二甲苯超标率高于重庆, 而苯和甲苯超标率低于重庆。(4 分)
措施: 控制污染源; 加强室内通风换气; 室内空气净化; 提高人们的环保意识等。(4 分)

(2) (8 分) 背景: 工业革命加快城市化进程, 人员密集性流动; 工业化大生产的发展, 工业废物排放污染严重; 居民落后的卫生观念; 城市环境治理尚未起步。(4 分)

内容: 设立城市公共卫生管理机构; 吸引社会力量参与垃圾处理工作; 政府直接干预环境治理工作; 国家颁布法律强化疫病防治。(4 分)

41. (30 分)

(1) (10 分) (1) 地缘优势: 靠近港澳, 华侨众多, 资源比较丰富。(4 分) 全国大开放格局: 形成经济特区—沿海开放城市—沿海开放区—沿江开放港口城市—沿边开放城镇—内地省会开放城市的开放体系。这个体系的特点是全方位、多层次、宽领域。(6 分)

(2) (12 分) 产业结构特点: 总体上以二、三产业为主; 第一产业比重低; 广州、深圳和东莞以第三产业为主; 佛山、惠州和中山以第二产业为主; 珠海的二、三产业结构均衡。(6 分)
结构变化: 大桥通车加强了珠海的对外交通, 加强了与香港的联系; 促进珠海第三产业的发展; 中山与珠海毗邻且有高速公路相连, 也会间接受益, 加速第三产业的发展。(6 分)

(3) (8 分) ①社会存在决定社会意识, 社会意识是社会存在的反映。幸福是人们不断追求的目标, 社会发展不会停滞, 幸福观会随着时代的发展而变化。(3 分)

②价值判断具有社会历史性, 会随着时空的推移和条件的改变而变化。随着社会的发展和物质的丰富, 追求“物质加法”的幸福观成为过去, 追求简朴生活、时间自由、帮助他人, 成为更多人的幸福追求;(3 分)

③追求幸福是人们生活理想的组成部分, 它源于现实、又高于现实, 人们追求幸福, 更享受追求幸福的过程, 所以“最幸福的感觉永远在路上”。(2 分)

(其它答案言之成理亦可酌情给分。)